

بصورت کیفی (تحقق یا عدم تحقق) یا (درجه بندی) یا (نمادگذاری) یا (درصد) یا ....	<p style="text-align: center;">بسمه تعالی</p> <p style="text-align: center;">مدیریت آموزش و پرورش ناحیه ی ۱ ارومیه</p> <p style="text-align: center;">معاونت آموزش ابتدایی</p> <p style="text-align: center;">کاربرگه مطالعات پایه ی ششم</p> <p>نام خانوادگی: _____</p> <p>تعداد صفحه: _____</p>
میزان تحقق سنجه ها	<p style="text-align: center;">سئوالات</p>
	<p style="text-align: center;"><b>موقعیت های زیر را بخوانید و درباره ی کارهای افراد گفت و گو کنید. کار کدامیک از آنها درست یا نادرست است؟ بهتر است هر یک از آنها در این موقعیت چگونه رفتار کنند؟</b></p> <p>حسن و پوریا در همسایگی هم زندگی می کنند و با هم دوست و همکلاس هستند. آنها فردا امتحان ریاضی دارند. پوریا نتوانسته است بعضی از مطالب را خوب یاد بگیرد و از حسن خواهش می کند که به خانه ی آنها بیاید و به او ریاضی یاد بدهد. از طرفی حسن می خواهد بهترین نمره ی کلاس را بگیرد و نفر اول باشد و نمی داند چه تصمیمی بگیرد.</p> <p>.....</p> <p>سارا و نرگس دوستان صمیمی هستند. آنها هر روز با هم به مدرسه می روند، با هم درس می خوانند و گاهی در روزهای تعطیل نیز به خانه ی یکدیگر می روند. خانواده ی نرگس خانه ی جدیدی در یک محله ی دیگر شهر خریده اند و قرار است به آنجا اسباب کشی کنند. نرگس هم باید در مدرسه ی دیگری ثبت نام کند. سارا خیلی گریه می کند و نمی تواند درس هایش را خوب بخواند.</p> <p>.....</p> <p>مریم و لیلا با هم دوست هستند. مریم متوجه می شود که گاهی لیلا پشت سر یکی از همکلاسی هایشان بدگویی می کند. مریم با مهربانی به لیلا می گوید: همانطور که ما دوست نداریم کسی پشت سر ما حرف بزند، پس ما هم نباید عیب دیگران را بازگو کنیم؛ اما لیلا اخمهایش را در هم می کشد و ناراحت می شود و ...</p> <p>.....</p>
	<p style="text-align: center;"><b>فکر کنید و جمله ای مناسب بنویسید</b></p> <p>یکی از همکلاسی هایتان ، شما را به جشن تولدش دعوت کرده است. پدر و مادرتان، همکلاسی شما و خانواده اش را نمی شناسند و به شما اجازه نمی دهند در این مهمانی شرکت کنید. همکلاسی شما دوباره تلفن می زند و به شما اصرار می کند که حتماً بیایید. شما چه می گوید؟ چگونه؟</p> <p>.....</p> <p>یکی از دوستان شما، تشویقتان می کند که با هم در امتحان تقلب کنید و شیوه ای را هم برای این کار به شما نشان می دهد. اما نظر شما این است که هر نمره ای بگیرید، بهتر از این است که اینکار نادرست را انجام بدهید. شما چه می گوید؟ چگونه نظر خود را مطرح می کنید؟</p> <p>.....</p>

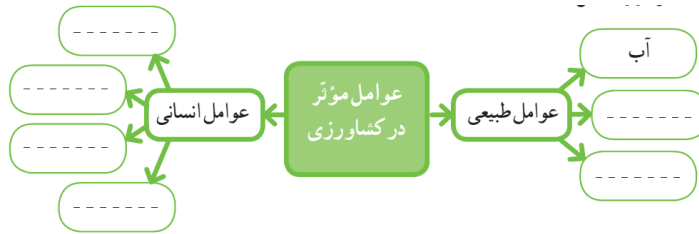
## درباره ی موقعیت های زیر تصمیم گیری کنید.

مدرسه تعطیل شده است و شما می خواهید به خانه برگردید. در چند قدمی مدرسه می بینید که یک کیف کوچک روی زمین افتاده است. آن را برمی دارید و مشاهده می کنید مقداری پول در آن است اما نام و نشانی صاحب کیف در آن نیست. چه تصمیمی می گیرید؟

شما به یک سالن ورزشی رفته اید. فردی در آنجا لباس های ورزشی حراجی پهن کرده است و می فروشد. دوستان شما از او خرید می کنند. شما پول کافی همراه ندارید و به لباس جدید هم نیاز ندارید اما دوستان به شما اصرار می کنند و حاضرند به شما پول قرض بدهند ...

مدرسه تعطیل شده است و شما و دوستانتان می خواهید به خانه بروید. دوستان از شما خواهش می کند که با هم به یک فروشگاه لوازم ورزشی بروید تا وسیله ای بخرید و فروشگاه هم از آنجا خیلی دور است...

نمودار را تکمیل کنید:



این اخبار از روزنامه ها برداشته شده است. هر یک از آنها به کدام عوامل مؤثر بر کشاورزی مربوط است؛ طبیعی یا انسانی؟

انسانی      طبیعی

مثال: ۱

۱- هجوم آفت سن\* در مزارع گندم در ناحیه ی کرمان خسارات زیادی به محصول کشاورزان وارد نمود ...  
\* سن حشره های است که می تواند به محصولات کشاورزی آسیب برساند.







۲- سازمان غله ی کشور اعلام کرد که محصول گندم کشاورزان به موقع خریداری می شود.

۳- اداره ی کشاورزی ورامین از کشاورزان خواست برای تهیه ی سم و کود به قیمت تعاونی، به این اداره مراجعه کنند ...

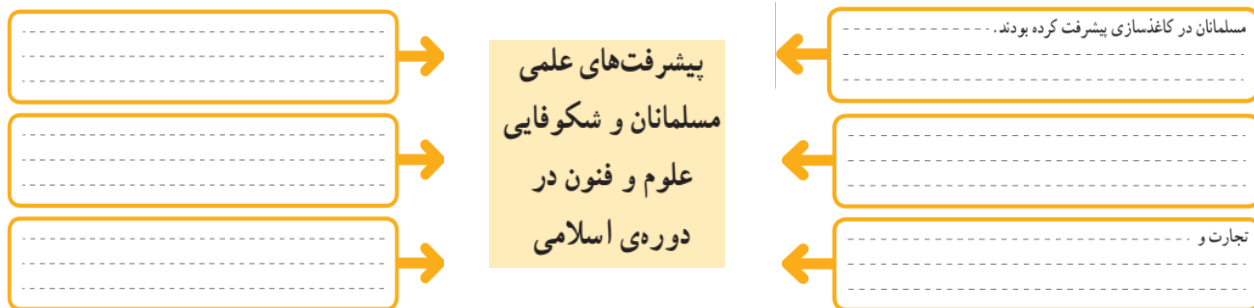
۴- بارش ناگهانی تگرگ در اردبیل به شکوفه های درختان میوه آسیب جدی وارد نموده است ...

۵- رئیس اداره ی کشاورزی فیروزآباد به خبرنگار گفت: «وجود آب و آفتاب کافی در این ناحیه، امکان دو بار برداشت محصول در سال را به ما می دهد» ...

انرژی های زیر را با هم مقایسه و جدول را کامل کنید:

بدی ها (معایب) ☹️	خوبی ها (مزایا) 😊	انرژی
<ul style="list-style-type: none"> <li>ذخیره‌ی آن تمام می‌شود و غیر قابل تجدید است.</li> <li>موجب آلودگی محیط می‌شود.</li> </ul>	<p>مثال: ارزان است.</p>	<p>نفت</p> 
.....	.....	<p>خورشیدی</p> 
.....	.....	<p>گاز</p> 
.....	.....	<p>باد</p> 
.....	.....	<p>آب جاری</p> 
.....	.....	<p>انرژی هسته‌ای (اتمی)</p> 

علت های پیشرفت های مسلمانان در دوره اسلامی را به طور خلاصه بنویسید.

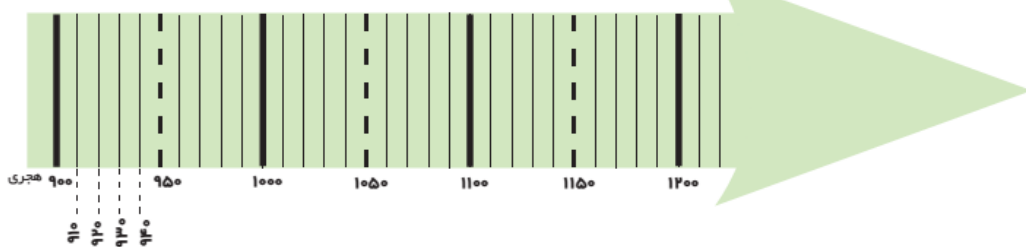


این موارد را به طور تقریبی با علامت روی خط زمان نشان دهید.

تأسیس سلسله ی صفویه (در سال ۹۰۷ هجری)

انتخاب اصفهان به پایتختی صفویه (در سال ۱۰۰۶ هجری)

سقوط سلسله ی صفویه (در سال ۱۱۳۵ هجری)





کاخ چهلستون یکی از کاخ های صفویان در اصفهان است. سقف این تالار بر بیست ستون استوار شده است و جلوی آن یک استخر بزرگ وجود دارد. در تالار اصلی آن نقاشی های زیبایی به چشم می خورد. (دقت در آثار تاریخی) چرا با اینکه این کاخ بیست ستون دارد به آن چهلستون می گویند؟

مسجد امام و مسجد شیخ لطف الله را روی عکس مشخص کنید. (دقت در آثار تاریخی)



به تصاویر مسجد امام و مسجد شیخ لطف الله دقت کنید. مهمترین تفاوتی که در این دو مسجد مشاهده می کنید چیست؟



نقاشان روی گنبد مساجد و مینیاتورهای داخل کاخ ها، بیشتر چه نقش هایی کشیده اند؟

این دو صفحه از دو سفرنامه برداشته شده است. آنها را بخوانید و مقایسه کنید. نکات مشترک و متفاوت آنها را بنویسید.



**ب**

... زیبایی شهر اصفهان به خصوص در کاخ های باشکوه بی شمار، ساختمان های مجلل و فرح افزا، کاروان سراهای وسیع، بازارهای بسیار زیبا، جدول های آب و نهرها و خیابان هایی است که در دو طرف آراسته به درخت چنار است در صورتی که کوی و برزن های دیگر آن به طور کلی بسیار تنگ و ناهموار است. این شهر دارای هشت دروازه است که هیچ گاه بسته نمی شود. اگرچه درها پوشیده از آهن است، همیشه خوب مواظبت و نگهداری می شود.

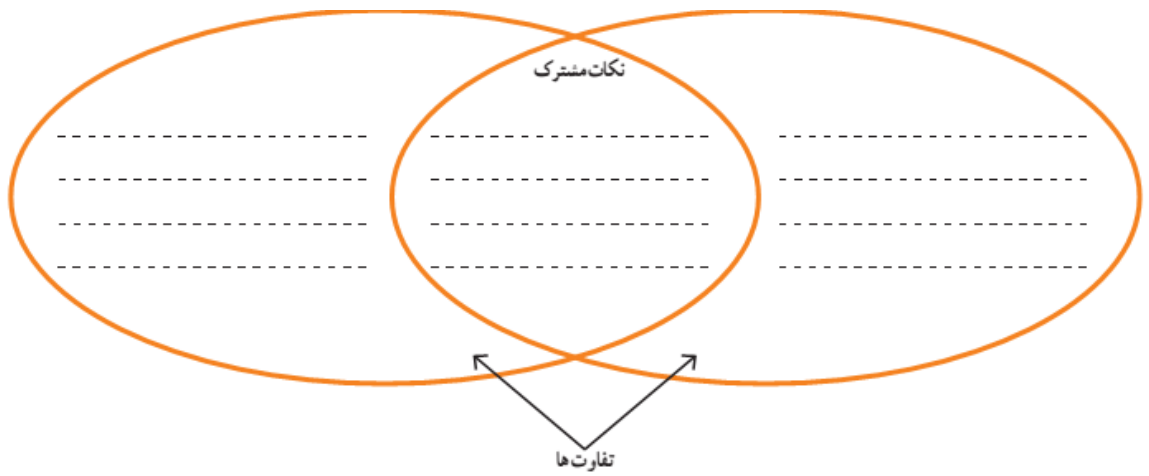
صفحه ی ۶۱



**الف**

... کوچه های اصفهان همه تنگ و کج و معوج و اغلب تاریک است. تمام شهر اصفهان، گذشته از میدان بزرگ و چند بازار سرپوشیده، حالت یک ده را دارد. به شهر شبیه نیست. چند سال است که شروع کرده اند به ساختن بناهای خوب ... دیوار اطراف اصفهان از خاک است و چند برج بسیار بد دارد.

صفحه ی ۵۸۲



آیا می‌توانید بگویید کدامیک از این دو مسافر قبل از دیگری به ایران آمده است؟ الف یا ب؟

هر یک از عبارت‌های زیر را به کلمه‌ی مناسب وصل کنید.

### خط تولید عمده فروش تولید انبوه بودجه

- توان مالی یا مقدار پولی که می‌توانیم برای تهیه‌ی یک چیز پردازیم.
- به تولید کالاها به مقدار زیاد و به صورت یک شکل و همسان گفته می‌شود.
- به همکاری افراد مختلف برای تولید یک کالا گفته می‌شود به طوری که هر کدام از آنها مهارت تولید یک بخش از کالا را دارند.
- فروشندگانی که کالاها را به تعداد زیاد و یکجا به مغازه‌داران دیگر می‌فروشند.

روی نقشه، نام خلیج فارس و دریای عمان را بنویسید.

نام تنگه‌ی هرمز را بنویسید.

نام کشورهای اطراف خلیج فارس را که با علامت ؟ مشخص شده‌اند، بنویسید.

نام بندرهایی را که روی نقشه نوشته نشده است، بنویسید.



نام دریای خزر را روی نقشه بنویسید .  
 دریای خزر را با مداد آبی رنگ کنید .  
 نام کشورهای اطراف دریای خزر را که با علامت ؟ مشخص شده است،  
 روی نقشه بنویسید.



ویژگیهای خلیج فارس و دریای عمان را در جدول بنویسید و آنها را با هم مقایسه کنید. (شباهتها و تفاوتها)

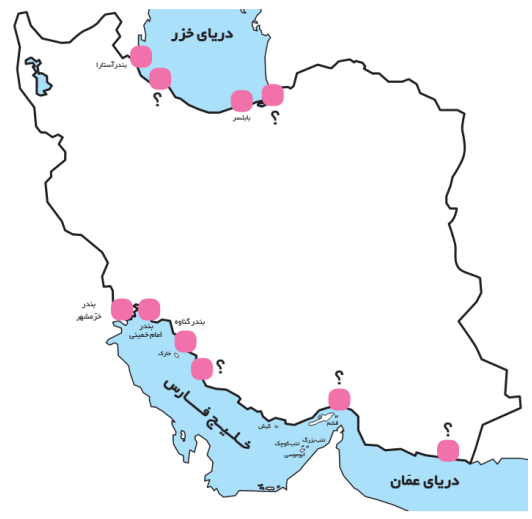
خلیج فارس	دریای عمان
شوری آب آن از دریای عمان بیشتر است.	شوری آب آن از خلیج فارس کمتر است.
.....	.....
.....	.....
.....	.....

جای خالی را با کلمات مناسب پر کنید.

## دریا تنگه خلیج دریاچه

..... گودالهای آبی وسیع در سطح زمین است که به اقیانوس راه ندارد.  
 به پیشروی آب دریاها در داخل خشکی ها ..... می گویند.  
 باریکه یا آبراه های که دو دریا را به هم وصل می کند، ..... نامیده می شود.

نام بندرهایی را که روی نقشه نوشته نشده است، بنویسید.  
 در بندرها چه فعالیتهایی صورت میگیرد؟ سه مورد بنویسید.



روی نقشه، خطوط مرزی ایران را با کشورهای همسایه پررنگ کنید و نام رودهای مرزی را بنویسید.  
 نام کشورهای همسایه را که با علامت ؟ مشخص شده است، بنویسید.

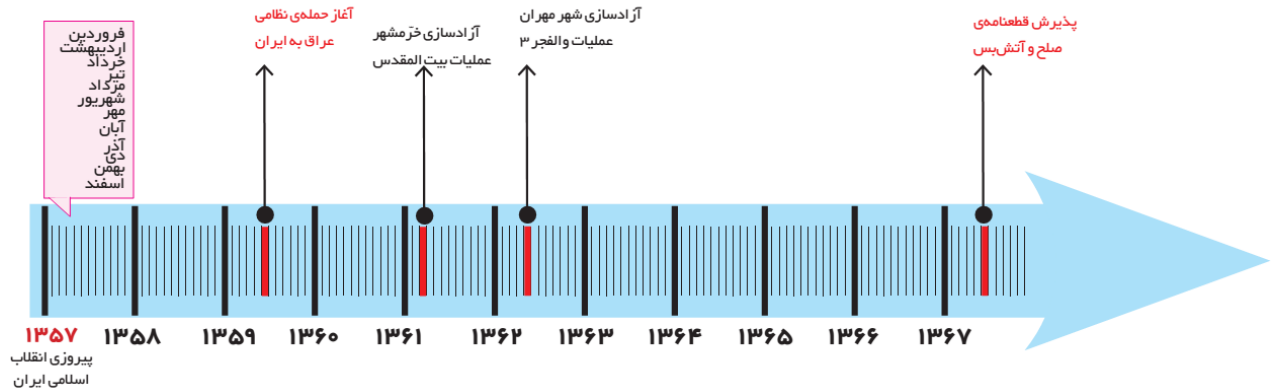


علت های پیدایش استعمارگری را بنویسید.

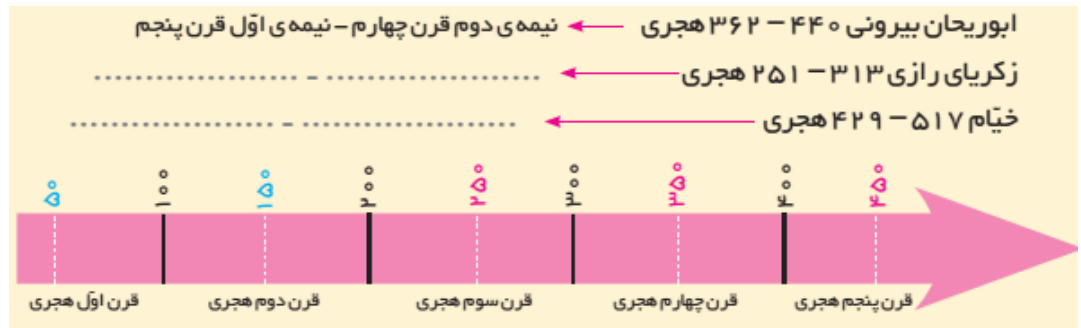
معلول (نتیجه)	علت‌ها
اروپایان قدرتمند شدند و به سرزمین‌های جدید رفتند و مردم آن سرزمین‌ها را استعمار کردند و به تسلط خود درآوردند.	_____ _____ _____
	_____ _____ _____
	_____ _____ _____
	اکتشافات جغرافیایی پیشرفت در دریانوردی و کشف سرزمین‌های جدید

از روی نمودار خط زمان به سوالات زیر پاسخ دهید:

- ۱- حمله ی نظامی عراق به ایران در چه سالی صورت گرفت؟
- ۲- آزادسازی خرمشهر، (عملیات بیت‌المقدس) در چه سالی صورت گرفت؟
- ۳- عملیات والفجر ۳ در چه سالی اتفاق افتاد؟ در این عملیات کدام شهر آزاد شد؟
- ۴- دفاع مقدس چند سال طول کشید؟ روی خط زمان بشمارید.



موارد زیر را روی خط زمان نشان دهید و بگویید هر یک از این افراد در چه زمانی زندگی می کرده اند؟



داشتن دوستان خوب چه مزایا و فوایدی دارد؟

ویژگیهای دوست خوب را نام ببرید.

تصمیم گیری چه مراحل دارد؟

انرژی هسته ای (اتمی) چیست؟

برچسب انرژی چیست؟





چگونه لباس مناسب را انتخاب کنیم و بخریم؟

برنامه‌ی متعادل چه ویژگی‌هایی دارد؟

حضرت علی بن ابیطالب (ع) فرموده‌اند: «از دست دادن فرصت موجب پشیمانی و اندوه است». منظور از این عبارت چیست؟

قرار است مسئولان شهری یا روستایی در محل زندگی شما امکاناتی برای گذراندن اوقات فراغت نوجوانان فراهم کنند و از شما خواسته‌اند اظهار نظر کنید. چه پیشنهادهایی می‌دهید؟

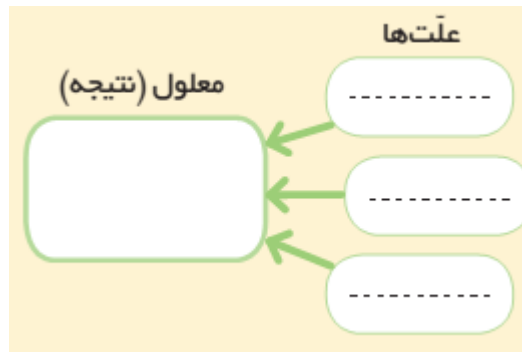
مرز چیست؟

شباهتهای ما و همسایگان مان را بیان کنید.

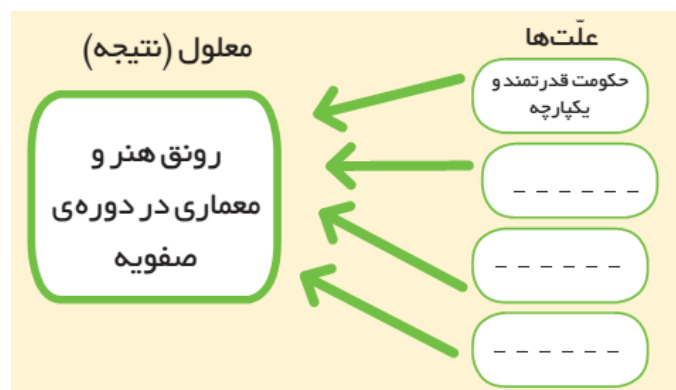
کلمه استعمار به چه معنا است؟ آیا به همان معنا در کشورهای استعمارگر استفاده می‌شود؟

اگر شما در زمان جنگ تحمیلی به دنیا آمده بودید و با حمله‌ی دشمن به خاک ایران روبه‌رو می‌شدید، چه کارهایی می‌کردید؟

علت‌های حمله‌ی نظامی عراق به ایران بیان کنید و نمودار زیر را کامل کنید.



علت‌های رونق هنر و معماری را در دوره‌ی صفویه روی آن به‌طور خلاصه در محل مناسب بنویسید



باز خورد کلی و اعلام وضعیت کیفی دانش آموز: